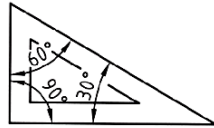
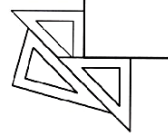




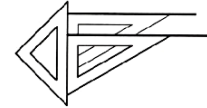
Escuadra



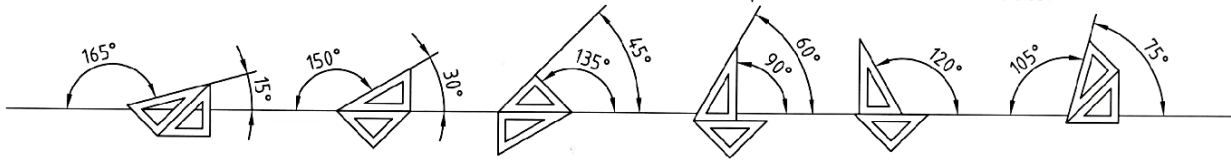
Cartabón



Perpendiculares



Paralelas



Dibuja un ángulo de 75° y otro de 120° utilizando la escuadra y el cartabón. Trazar la bisectriz a ambos ángulos.



Define el concepto de bisectriz:

CRITERIO 3.6 - 3.8 - 3.12

Determinar el lugar geométrico de los puntos del plano que están a la misma distancia de los extremos del segmento AB  
Cúal es el nombre de ese lugar geométrico: \_\_\_\_\_

CON COMPÁS

CON ESCUADRA Y CARTABÓN



CRITERIO 3.10 - 3.12

Lugares geométricos



NOMBRE:

CURSO:

FECHA: